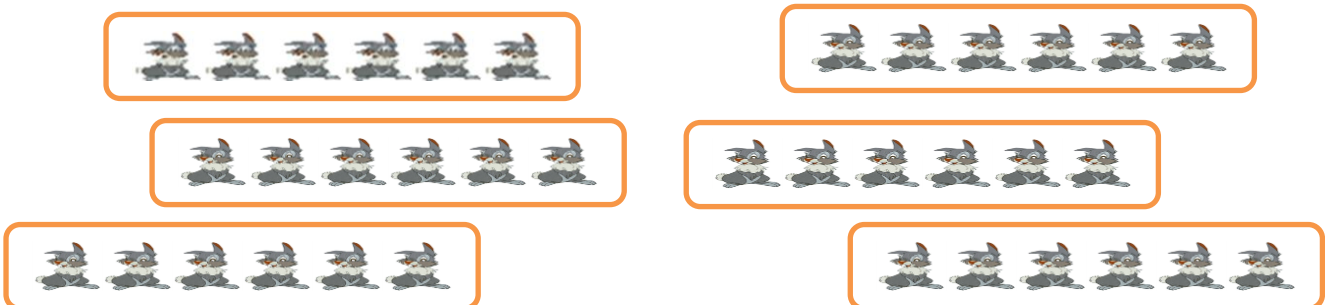
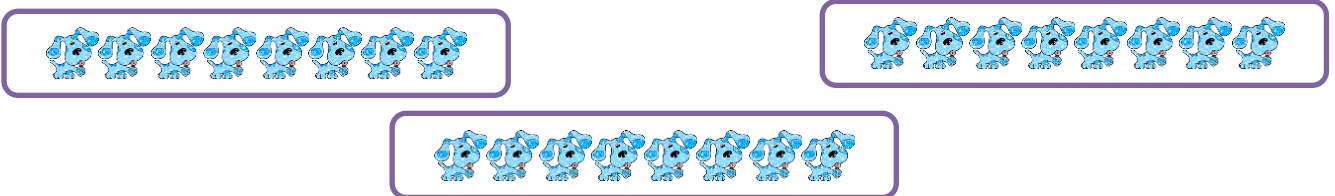
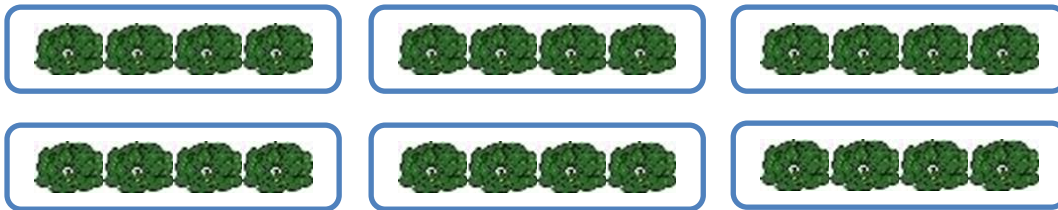


IME I PREZIME: _____

MNOŽENJE BROJEVA

1.) IZRAČUNAJ ZBRAJANJEM I MNOŽENJEM



IME I PREZIME: _____

DIJELJENJE BROJEVA

1.) IZBROJI KOLIKO IMA JAGODA I PODIJELI IH U **4** JEDNAKE GRUPE!




RAČUN: _____

2.) IZBROJI KOLIKO IMA LEPTIRA I PODIJELI IH NA **5** GRUPA !



RAČUN: _____

3.) IZBROJI KOLIKO IMA CVJETOVA I PODIJELI NA **6** GRUPA!



RAČUN: _____

4.) IZBROJI SRCA I PODIJELI IH NA **9** GRUPA!



RAČUN: _____

5.) PODIJELI **25** PČELICA U **5** JEDNAKIH GRUPA!



RAČUN: _____

6.) PODIJELI **35** PSIĆA U **7** JEDNAKIH GRUPA !



RAČUN: _____

7.) PODIJELI **40** MAČIĆA NA **8** JEDNAKIH GRUPA !



RAČUN: _____

Izradila učiteljica Sanja Husnjak

IME I PREZIME: _____

MNOŽENJE BROJEVA 2 I 5 - ponavljanje

1.) IZRAČUNAJ !

FAKTOR	5	6	8	9	7	4	3	2	1
FAKTOR	5	2	5	5	2	5	5	5	2
UMNOŽAK									

2.) IZRAČUNAJ !!

5

- *3
- *5
- *6
- *7
- *9

2

- *6
- *9
- *8
- *7
- *5

3.) IZRAČUNAJ I U KRUŽIĆE UPIŠI ODGOVARAJUĆE ZNAKOVE!



$$9 * 2 \bigcirc 28$$

- 30



$$4 * 5 \bigcirc 35 - 15$$



$$3 * 5 \bigcirc 45$$



$$6 * 2 \bigcirc 22$$

- 10



$$5 * 5 \bigcirc 12 + 13$$



$$7 * 2 \bigcirc 24$$




$9 * 5 \bigcirc 40$
 $+ 8$

$7 * 5 \bigcirc 45 - 12$

$8 * 2 \bigcirc 14$

4.) IZRAČUNAJ I OBOJI BALONE ODGOVARAJUĆOM BOJOM !



5.) MARINO IMA 9 KOVANICA OD 5 KUNA. IMA LI ON DOVOLJNO NOVACA DA KUPI LOPTU OD 25 KUNA I OLOVKU OD 12 KUNA?



RAČUN: _____

ODGOVOR: _____

6.) ANTONIJA JE U KASICU STAVILA 8 KOVANICA OD 2 KUNE.
KOLIKO JE UKUPNO KUNA ANTONIJA STAVILA U KASICU ?



RAČUN: _____

ODGOVOR:



IME I PREZIME: _____

PONAVLJANJE – 3,4,1,0 I 6

- 1.) U RAZREDU IMA 27 UČENKA. UČITELJICA IH JE PODIJELILA U 3 JEDNAKE GRUPE. KOLIKO JE UČENIKA U JEDNOJ GRUPI?

RAČUN: _____

ODGOVOR:



- 2.) KOJI JE BROJ 3 PUTA VEĆI OD BROJA 9?

RAČUN: _____

ODGOVOR:

—

- 3.) MARINO JE IZBROJIO DA PARKIRANI AUTOMOBILI IMAJU 32 KOTAČA. KOLIKO JE AUTOMOBILA NA PARKIRALIŠTU AKO SVAKI IMA 4 KOTAČA?



RAČUN: _____

ODGOVOR:

- 4.) KOJI JE BROJ ČETIRI PUTA VEĆI OD BROJA 9?

RAČUN: _____

ODGOVOR:

—


- 5.) U JEDNOJ STAJI 8 KRAVA IMA PO JEDNO TELE, 7 KOBILA PO JEDNO ŽDRIJEBE I 10 OVACA PO JEDNO JANJE. KOLIKO JE UKUPNO ŽIVOTINJA U STAJI?



RAČUN: _____

ODGOVOR: _____

- 6.) MARINO I ANTONIJA DOGOVORILI SU SE DA ĆE UPECANU RIBU JEDNAKO PODIJELITI. NISU UPECALI NIJEDNU RIBU (ILI: UPECALI SU NULA RIBA). KOLIKO JE RIBA DOBIO SVATKO OD NJIH?



RAČUN: _____

ODGOVOR: _____

- 7.) DVA UČENIKA I TRI UČENICE BRINU SE O ŠKOLSKOM VRTU. SVAKI JE UČENIK DONIO U POSUDI ZA ZALIJEVANJE 6 LITARA VODE, A SVAKA UČENICA 4 LITRE VODE. KOLIKO SU UKUPNO LITARA VODE DONIJELI?



RAČUN: _____

ODGOVOR: _____

- 8.) U ŠKOLI SE PRIJAVILO 48 UČENIKA ZA MALI NOGOMET. KOLIKO SE MALONOGOMETNIH EKIPA MOŽE ORGANIZIRATI AKO ĆE PO 6 UČENIKA IGRATI U JEDNOJ EKUPI?



RAČUN: _____

ODGOVOR: _____

- 9.) OD UMNOŠKA BROJEVA 6 I 9 ODUZMI BROJ 25.

RAČUN: _____

- 10.) UMNOŠKU BROJEVA 6 I 7 DODAJ NJIHOV ZBROJ.

RAČUN: _____

NAKON ŠTO SI PROVJERIO/ PROVJERILA ZADATKE,
NACRTAJ NEŠTO!

